

Nom : .....

Prénom : .....


Classe : .....



## Étude du milieu

# Évaluation certificative de fin de degré

## Questionnaire



D1 Commun

**Volet historique :** /40

**Volet géographique :** /40

**... /80**



## Volet historique

.../40

## Sur la base du document 1 et de tes connaissances

.../1 1. **CITE** l'ère à laquelle le document fait référence. ....

.../1 2. **NOMME** la période de la Préhistoire à laquelle se rapporte le 6<sup>e</sup> millénaire avant notre ère.

.....

.../1 3. **ILLUSTRE**, par un exemple, la sédentarisation.

.....

.../2 4. **NOMME** les deux traces archéologiques qui attestent de la consommation de vin ou de raisin durant la Préhistoire.

▪ Trace 1 : .....

▪ Trace 2 : .....

.../1 5. **COCHE** la date qui se situe dans le 1<sup>er</sup> millénaire avant notre ère :

2500 avant J.-C.

780 après J.-C.

987 avant J.-C.

1980 après J.-C.

.../1 6. **ENTOURE** la bonne affirmation :

Vers 600 avant notre ère, l'implantation par les Grecs de vignes dans la Gaule celtique est

*certaine* – *hypothétique*.

.../1 7. **JUSTIFIE** ta réponse en recopiant un élément du document.

.....

.../1 8. Les Gaulois n'auraient pas pu importer et consommer du vin provenant d'Amérique.

**CITE** un fait pour justifier cette affirmation.

.....

.../1 9. **ENTOURE** la bonne proposition :

La production du vin romain est *antérieure – postérieure – simultanée* à la première impression d'un ouvrage par Gutenberg.

.../1 10. **COCHE** le titre adapté au document 1.

- La production du vin au Moyen Age.
- Le commerce du vin en Europe durant l'Antiquité.
- Histoire du vin et de la vigne de la Préhistoire au Moyen Age.
- La culture de la vigne à l'époque gallo-romaine.

## Sur la base du document 2 et de tes connaissances

.../1 11. **CITE** la date d'arrivée des Romains dans nos régions. ....

.../3 12. Pour chaque extrait, **INDIQUE** s'il s'agit d'un **fait**, d'une **opinion** ou d'une **hypothèse** :

- *C'est surprenant, parce que nous pensions pour la plupart que plus de 4000 ans après les premiers vestiges archéologiques de pressage [...] :* .....
- *La vigne aurait dû être domestiquée depuis longtemps :*  
.....
- *[les Gallo-Romains pressaient leur vin] avec divers raisins, sauvages ou domestiques. C'est ce que montre notre analyse de centaines de pépins [...] :* .....

.../1 13. **ENTOURE** la bonne proposition : Laurent BOUBY est

*un témoin - un spécialiste.*

.../1 14. **JUSTIFIE** ta réponse à l'aide d'un élément du document 2.

.....

.....

.../2 15. **NOMME** la nature de chaque document.

- Le document 2 est : .....
- Le document 3 est : .....

## Sur la base des documents 3, 4, 5 et de tes connaissances

.../1

**16. ENTOURE** la bonne réponse :

La trace du passé qui témoigne de l'histoire du vin au XVIII<sup>e</sup> siècle correspond au :

*Document 3*            –    *Document 4*            –    *Document 5.*

.../6

**17. COMPLÈTE** le tableau ci-dessous

N° du document	3	5
Période conventionnelle		
Activité(s) illustrée(s)		
Mode de production		

.../1

**18. NOMME** le phénomène mis en évidence par l'évolution des techniques de transformation du raisin en vin.

.../1

**19. ESTIME** la durée pendant laquelle le pressoir à raisins illustré par le document 4 a été utilisé :

*un demi-siècle*             *un siècle*             *2 siècles.*

## Sur la base du document 6

.../1 20. **ENTOURE** la bonne réponse :

Le document 6 est un document *original* - *reconstitué*.

.../1 21. **JUSTIFIE** ta réponse en recopiant une information du document.

.....

.../1 22. **CITE** une cause du déclin des vignobles au XIX<sup>e</sup> siècle.

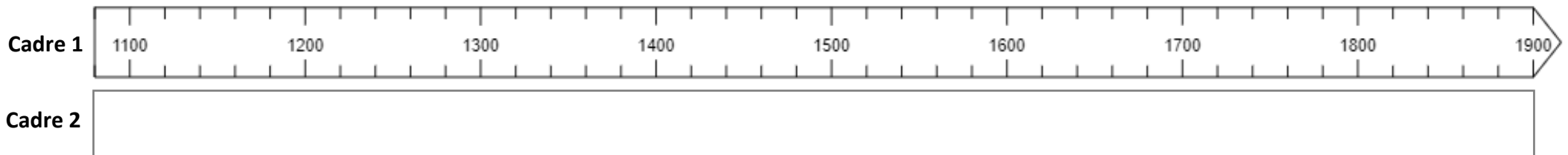
.....

**Sur la base de la ligne du temps, du document 6 et de tes connaissances :**

- .../3** 23. Dans le cadre 1, **COLORIE** les périodes des 3 pics glaciaires.
- .../1** 24. Dans le cadre 2, **COLORIE** la période pour laquelle les archives mentionnent un grand nombre de vignobles dans nos régions.
- .../1** 25. Dans le cadre 2, **HACHURE** la période durant laquelle la culture de la vigne diminue dans nos régions.
- .../1** 26. Au-dessus du cadre 1, **POSITIONNE** la mise en service du pressoir illustré par le document 4.
- .../1** 27. Au-dessus du cadre 1, **POSITIONNE** l'indépendance de la Belgique.
- .../2** 28. **RÉDIGE** une phrase qui pourrait expliquer la présence de nombreux vignobles au XV<sup>e</sup> siècle dans nos régions.

.....

.....

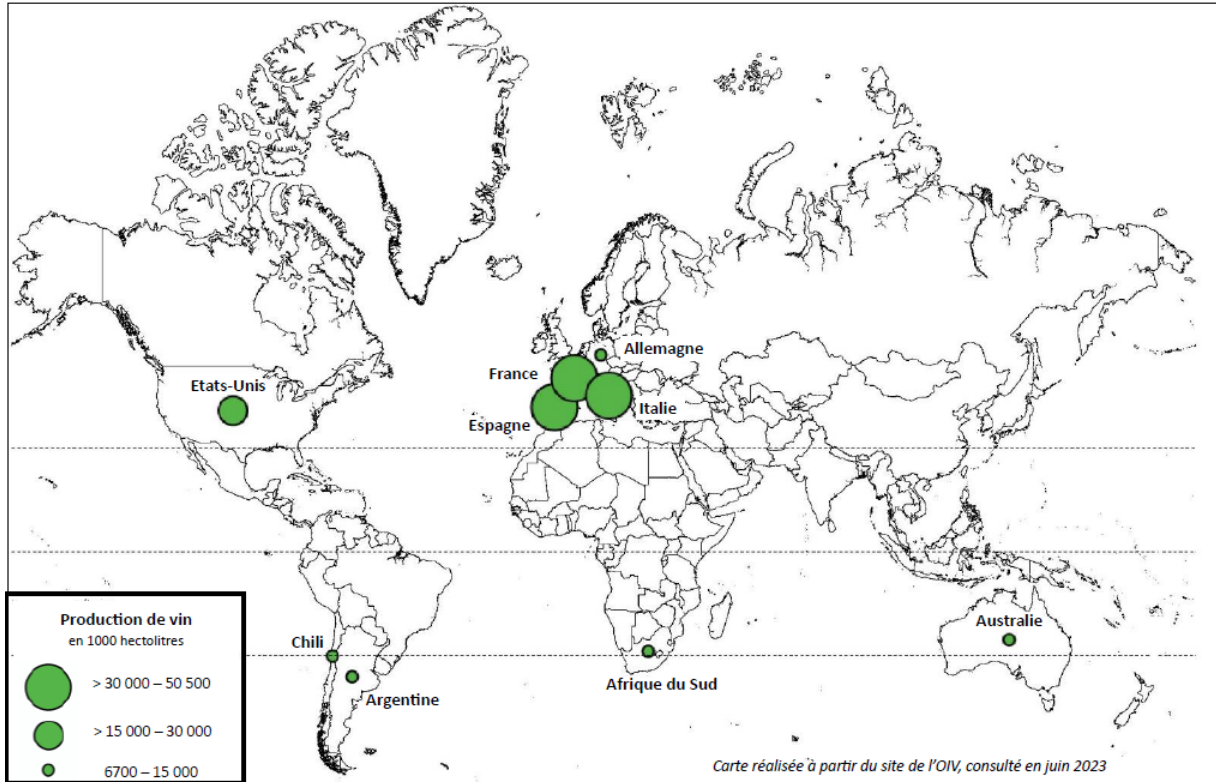




# Volet géographique

.../40

## Les 9 plus grands pays producteurs de vin (2022)



### Sur la base de la carte ci-dessus

.../1

29. **CITE** l'hémisphère où se situe la majorité des grands pays producteurs de vin.

.....

.../1

30. **ESTIME** la production de vin des États-Unis en milliers d'hectolitres.

.....

.../1

31. **CITE** un pays producteur de vin traversé par le Tropique du Capricorne.

.....

.../1 **32. NOMME** la zone climatique où l'on observe la majorité des grands pays producteurs de vin.

.....

.../1 **33. NOMME** l'océan qui sépare le Chili de l'Australie. ....

## Sur la base du document 1

.../2 **34. COCHE** la bonne proposition pour chacune des affirmations suivantes :

- La culture de la vigne fait partie du secteur :
  - primaire*
  - secondaire*
  - tertiaire.*
  
- Le document illustre la fonction :
  - de loisirs*
  - de consommation et d'échange*
  - de production agricole*
  - de production industrielle.*

.../1 **35. CITE** un fleuve français qui a son embouchure dans la mer Méditerranée.

.....

.../1 **36. CITE** une région viticole qui borde les Alpes.

.....

**.../3** 37. **NOMME** les éléments d'hydrographie repérés par les lettres :

**A** : .....

**D** : .....

**F** : .....

**.../1** 38. **ESTIME** la distance à vol d'oiseau entre Bruxelles et Lyon.

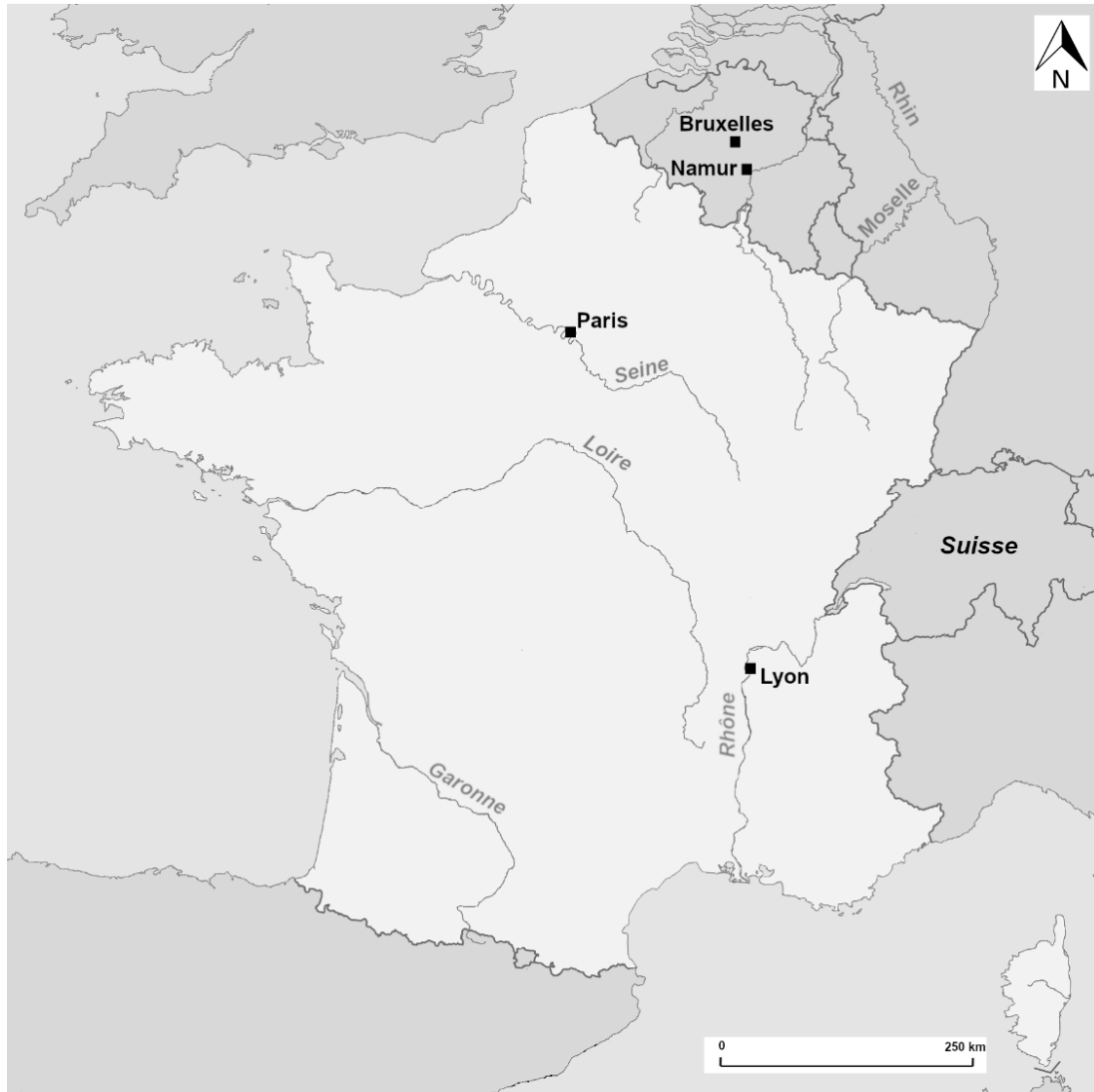
.....

## Sur la carte de la page suivante

- .../1 39. **ENTOURE** un espace marqué par des méandres sur la Seine.
- .../2 40. **ÉCRIS** le nom de l'Allemagne et de l'Espagne au bon endroit.
- .../1 41. **MARQUE** d'une croix (**X**) la source de l'Escaut.
- .../1 42. **DESSINE** une flèche pour indiquer le sens du courant de la Loire.
- .../1 43. **HACHURE** l'espace occupé par les Pyrénées.
- .../1 44. Sur la base de la légende du document 1, **DESSINE** l'espace occupé par la région viticole de l'Alsace.

.../3

45. **RÉALISE** la légende de la carte pour les éléments cartographiés aux questions 41 à 44.



**Légende**

## Sur la base du document 2

.../3 46. À l'aide de 3 repères géographiques orientés, **SITUE** la région viticole de Maasvallei pour une personne qui n'a pas la carte sous les yeux.

- .....
- .....
- .....

.../1 47. **NOMME** la région viticole située en partie dans la province de Flandre occidentale.

.....

.../2 48. **CITE** les provinces wallonnes où on n'observe pas de régions viticoles (AOC).

.....

## Sur la base des documents 3 et 4

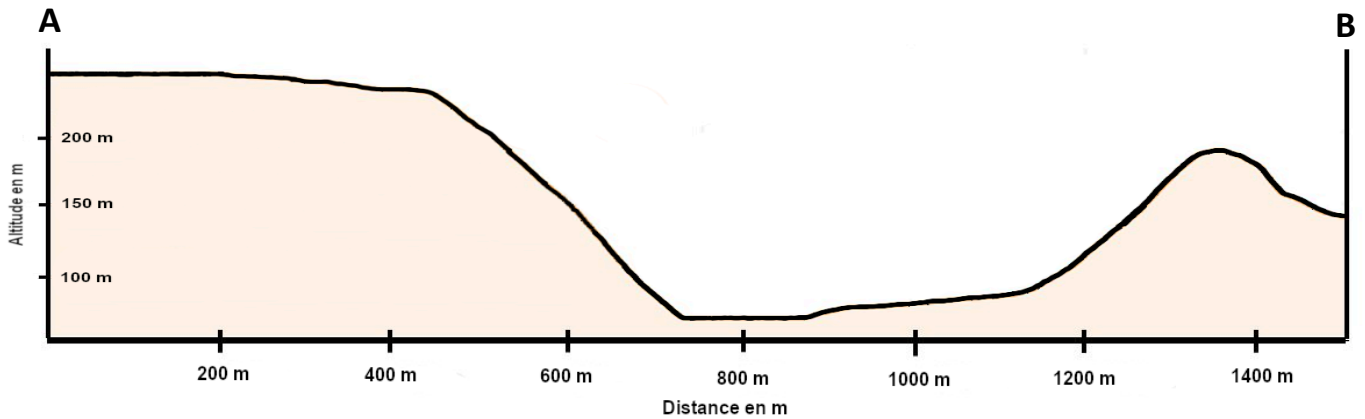
.../1 49. **CITE** l'angle de prise de vue du document 4.

.....

.../1 50. **CITE** la direction cardinale dans laquelle regarde le photographe (point de vue ◁ ) pour prendre la vue du document 4.

.....

Sur la base du profil et du document 3



.../3 51. Sur le profil, **REPASSE** :

- en bleu, l'espace occupé par la Moselle,
- en vert, l'espace occupé par les vignes,
- en rouge, l'espace bâti.

.../1 52. **COCHE** la bonne proposition :

La dénivellation entre la position du château et la Moselle est d'environ :

- 150m                       200m                       250m

.../4 53. **COMPLÈTE** le tableau ci-dessous :

Occupation du sol	Élément du relief correspondant
Vignes	
Village	
Forêt	
Cultures	

.../1 54. **CITE** une contrainte naturelle pour le développement du village d'Alken.

.....