


Nom :

Prénom :

Classe :



Étude du milieu
Évaluation certificative de fin
de degré
Questionnaire



D1 Commun

Bis

Volet historique : /40

Volet géographique : /40

... /80

Volet historique

.../40

Sur la base du document 1 et de tes connaissances

- .../1** 1. **ENTOURE** la bonne réponse : le document 1 est un document *original* - *reconstitué*.
- .../1** 2. **JUSTIFIE** ta réponse en recopiant une information du document
.....
- .../1** 3. **NOMME** la période de la Préhistoire à laquelle se rapporte le 6^e millénaire avant notre ère.
.....
- .../1** 4. L'ère musulmane débute avec l'Hégire. **CITE** la date de l'Hégire.
▪ Date : ...
- .../1** 5. **COCHE** la date qui se situe dans le 1^{er} millénaire avant notre ère.
 3258 avant J.-C. 476 avant J.-C. 800 après J.-C. 1968 après J.-C.
- .../1** 6. **CITE** la période conventionnelle à laquelle se rapporte la Gaule celtique
.....
- .../1** 7. Les Gaulois n'auraient pas pu importer et consommer du vin provenant d'Amérique.
CITE un fait pour justifier cette affirmation.
.....
- .../1** 8. **COCHE** la ou les proposition(s) qui caractérise(nt) le commerce du vin romain au 1^{er} siècle avant J.-C.
 Il est inexistant.
 Il est florissant et se porte bien.
 Il s'achète de différentes façons.
 Il tend à disparaître.

.../1

9. **CITE** une trace écrite datant de la période gallo-romaine qui prouve la culture de la vigne en Gaule romaine.

.....

.../1

10. **RECOPIE** un fait datant du Moyen Age.

.../1

11. **COCHE** le titre adapté au document 1.

- La consommation du vin au Moyen Age.
- Le commerce du vin autour du bassin méditerranéen durant la période gallo-romaine.
- Histoire du vin et de la vigne de la préhistoire au Moyen Age.
- La culture de la vigne à l'époque gallo-romaine.

Sur la base du document 2 et de tes connaissances

.../1

12. **ILLUSTRE** par un exemple la sédentarisation.

.....

.../1

13. **CITE** la date d'arrivée des Romains dans nos régions :

.../3

14. **RECOPIE** un fait, une hypothèse et une opinion.

a) Fait :

b) Hypothèse :

c) Opinion :

.../1

15. **ENTOURE** la bonne proposition : Laurent BOUBY est un *témoin* - un *spécialiste*.

.../1

16. **JUSTIFIE** ta réponse à l'aide d'un élément du document 2

.....

.../1

17. **CITE** un élément en lien avec la production du vin par les humains de la Préhistoire.

.....

Sur la base des documents 3, 4, 5 et de tes connaissances

.../1 18. **ENTOURE** la bonne réponse : la trace du passé qui témoigne de l'histoire du vin au XVIII^e siècle correspond au :

Document 3 – *Document 4* – *Document 5*

.../4 19. **NOMME** les différents éléments identifiés par les lettres sur le document.

A : ...

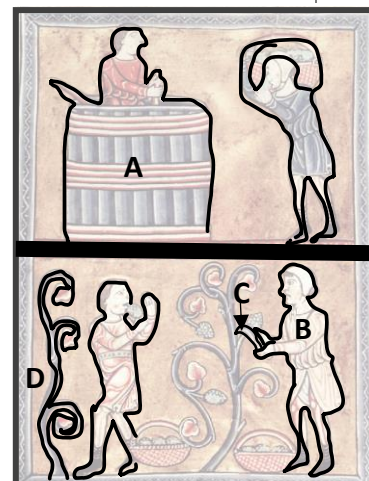
B : ...

C : ...

D : ...

.../1 20. **ENTOURE** la date de réalisation sur le document 3 reproduit ci-contre.

.../1 21. **NOMME** le mode de production mis en évidence par le document 3.



Pressurage et récolte des raisins, dans Psautier de Fécamp, vers 1180.

(<https://commons.wikimedia.org>, consulté le 22-05-2023).

.../1 22. **COCHE** la bonne réponse : la durée d'utilisation du pressoir à raisins illustré par le document 4 est d'environ :

un demi-siècle

un siècle

2 siècles

Sur la base des documents 4 et 6

.../4 23. **COMPLETE** le tableau ci-dessous

	Nature du document	Date de réalisation
Document 4		
Document 6		

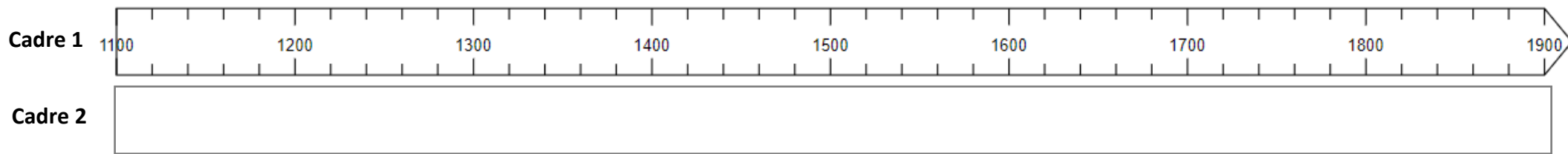
.../1 24. **CITE** une cause du déclin des vignobles au XIX^e siècle.

Sur la base de la ligne du temps, du document 6 et de tes connaissances :

- 25. Dans le cadre 1 : **COLORIE** les périodes des 3 pics glaciaires énoncées dans le document.
- 26. Dans le cadre 2 : **COLORIE** la période pour laquelle les archives mentionnent un grand nombre de vignobles dans nos régions.
- 27. Dans le cadre 2 : **HACHURE** la période durant laquelle la culture de la vigne diminue dans nos régions.
- 28. Au-dessus du cadre 1, **POSITIONNE** la mise en service du pressoir illustré par le document 4.
- 29. Au-dessus du cadre 1, **POSITIONNE** la première impression d'un ouvrage par Gutenberg.
- 30. **RÉDIGE** une phrase qui pourrait expliquer la présence de nombreux vignobles au XV^e siècle dans nos régions.

.....

.....



Volet géographique

.../40

Les 9 plus grands pays producteurs de vin (2022)



Sur base de la carte ci-dessus

.../1

31. CITE un pays de l'hémisphère nord qui a produit entre de 15 000 000 et 30 000 000 d'hectolitres en 2022.

.....

.../1

32. ESTIME la production de vin de l'Australie.

.....

.../1

33. CITE un pays producteur de vin traversé par le Tropic du Cancer.

.....

.../1

34. NOMME la zone climatique où l'on observe la majorité des grands pays producteurs de vin.

.....

.../1

35. NOMME l'océan qui sépare l'Argentine de l'Afrique du Sud.

.....

Sur la base du document 1

.../1 36. **ENTOURE** la bonne proposition : la culture de la vigne fait partie du secteur :

Primaire – secondaire - tertiaire

.../1 37. **NOMME** la fonction illustrée par le document 1.

.../1 38. **CITE** un fleuve français qui a son embouchure dans la mer Méditerranée.

.../1 39. **CITE** une région viticole qui borde les Pyrénées.

.../1 40. **COCHE** la bonne proposition : la région viticole de la Bourgogne se situe ...

Sur la rive gauche de la Loire.

Sur la rive droite de la Loire.

.../3 41. **NOMME** les éléments repérés par les lettres suivantes:

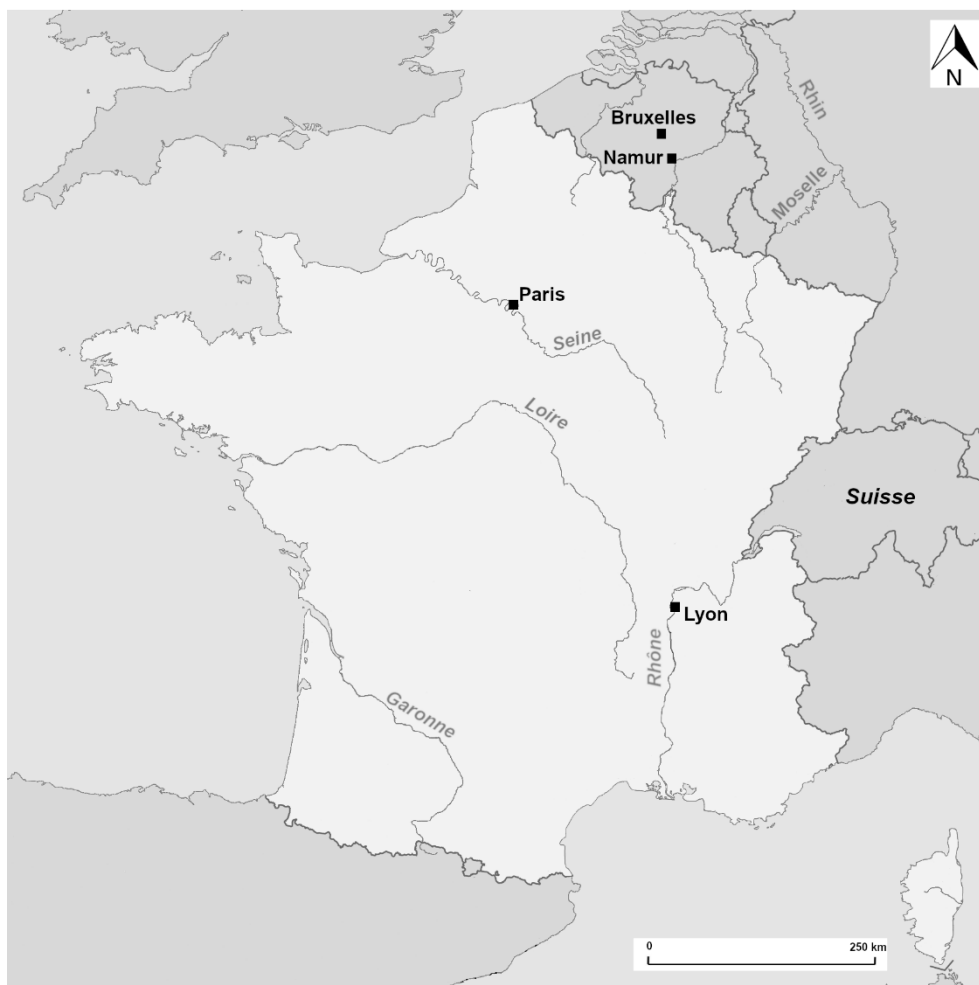
B:

C:

.../1 42. **ESTIME** la distance à vol d’oiseau entre Namur et Bruxelles.

Sur la carte ci-dessous

- .../1 43. **ENTOURE** un espace marqué par des méandres de le Rhin.
- .../2 44. **ÉCRIS** le nom des Pays-Bas et de l'Espagne au bon endroit.
- .../1 45. **MARQUE** d'une croix (X) la source de la Loire.
- .../1 46. **DESSINE** une flèche pour indiquer le sens du courant de la Seine.
- .../1 47. **HACHURE** l'espace occupé par les Alpes.
- .../1 48. Sur la base de la légende du document 1, **DESSINE** l'espace occupé par la région viticole de la Bourgogne.
- .../3 49. **RÉALISE** la légende de la carte pour les éléments cartographiés aux **questions 45 à 48**.



Légende

Sur la base du document 2

.../3 50. À l'aide de 3 repères géographiques orientés, **SITUE** la région viticole de Heuvelland pour une personne qui n'a pas la carte sous les yeux.

-
-
-

.../1 51. **NOMME** la région viticole située notamment dans la province de Namur.

.....


.../2 52. **CITE** les provinces wallonnes où on n'observe pas de régions viticoles (AOC).

.....

Sur la base des documents 3 et 4

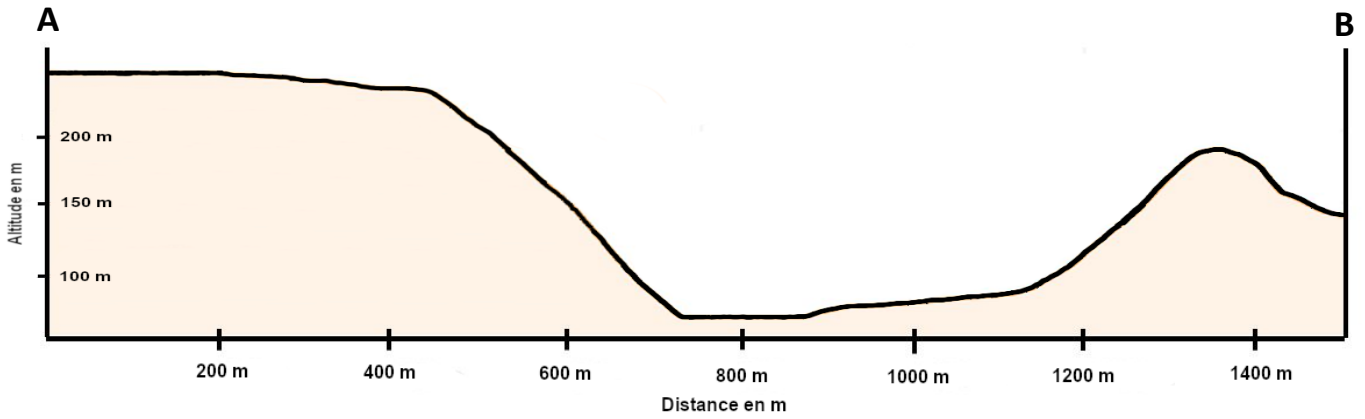
.../1 53. **CITE** l'angle de prise de vue du zoom.

.....

.../1 54. **CITE** la direction cardinale dans laquelle regarde le photographe (point de vue ) pour prendre la vue du document 4.

.....

Sur la base du profil et du document 3



.../3 55. Sur le profil, **REPASSE** :

- en bleu, l'espace occupé par la Moselle,
- en vert, l'espace occupé par les vignes,
- **PLACE** le château

.../1 56. **COCHE** la bonne proposition :

La largeur de la plaine alluviale de la Moselle est d'environ :

200 m

400m

600m

.../3 57. **COMPLÈTE** le tableau ci-dessous :

Occupation du sol	Élément du relief correspondant
Vignes	
Village	
Forêt	

.../1 58. **CITE** un atout naturel qui justifie la localisation du château à Alken.

.....